

18 listopada Mat kl V

Kontynuacja powtórzenia materiału – Figury geometryczne.

11/85 ustnie

13/85 ustnie

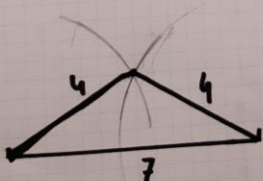
a) 
$$\begin{array}{r} 45 \\ 110 \\ + 35 \\ \hline 170 \\ \hline 360^\circ \end{array}$$

b) 
$$\begin{array}{r} 90 \\ 120 \\ 40 \\ \hline 120 \\ \hline 370^\circ \end{array}$$

c) 
$$\begin{array}{r} 1 \\ 58 \\ 130 \\ 72 \\ \hline 100 \\ \hline 360^\circ \end{array}$$

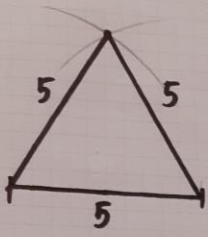
J a) Ma.)  
Suej c)  
J b)

a)



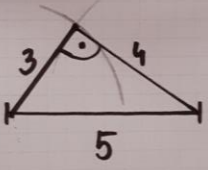
$\Delta$  równoramienny  
 $\Delta$  - rozwartokątny

b)



$\Delta$  równoboczny  
 $\Delta$  ostrokątny

c)

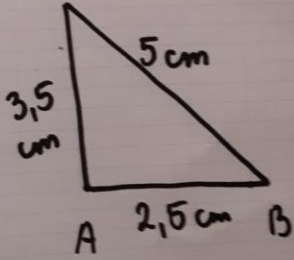


$\Delta$  prostokątny  
 $\Delta$  różnoboczny

15/85

rys pomoc c

$Ob = 5 + 3,5 + 2,5$   
 $Ob = 11 \text{ cm}$



3,5 cm  
5 cm  
A 2,5 cm B

$|AB| =$

$|BC| =$

$|CA| =$

w skali

dat.

~~16~~ 16/85 w domu